

1. 이상과 이하, 초과와 미만

01 몸무게가 46 kg 이하인 학생의 이름을 모두 써 보세요.

학생들의 몸무게

이름	준하	재영	소희	민재	수영	정우
몸무게(kg)	45.2	47.3	46.0	48.5	43.8	46.3

()

02 읽은 책의 수가 25권 초과인 학생이 읽은 책의 수를 모두 써 보세요.

학생들이 읽은 책의 수

이름	민호	수희	서연	준수	형준	미애
책의 수(권)	24	25	29	18	26	31

()

[03 ~ 06] 알맞은 수에 표 하세요.

03

24 이상인 수

22 23 24 25 26

04

27 이하인 수

24 25 26 27 28

05

16 초과인 수

14 15 16 17 18

06

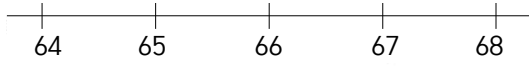
19 미만인 수

17 18 19 20 21

[07 ~ 10] 수직선에 나타내어 보세요.

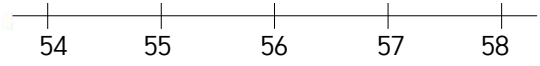
07

65 이상인 수



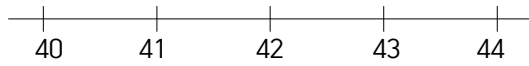
08

57 이하인 수



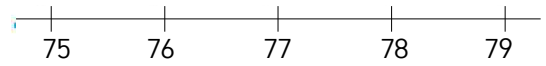
09

43 초과인 수



10

78 미만인 수



[11 ~ 13] 알맞은 수에 표하세요.

11

43 초과 49 이하인 수

43 46 38 41 47 49 52

12

28 이상 37 미만인 수

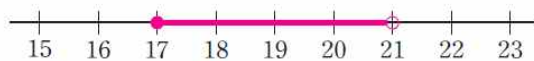
30 35 28 38 33 37 40

13

52 이상 62 이하인 수

50 52 54 64 48 62 60

14 수직선에 나타낸 수의 범위를 써 보세요.



()

01 몸무게가 46 kg 이하인 학생의 이름을 모두 써 보세요.

학생들의 몸무게

이름	준하	재영	소희	민재	수영	정우
몸무게(kg)	45.2	47.3	46.0	48.5	43.8	46.3

(준하, 소희, 수영)

02 읽은 책의 수가 25권 초과인 학생이 읽은 책의 수를 모두 써 보세요.

학생들이 읽은 책의 수

이름	민호	수희	서연	준수	형준	미애
책의 수(권)	24	25	29	18	26	31

(29권, 26권, 31권)

[03~06] 알맞은 수에 표 하세요.

03

24 이상인 수

22 23 (24) (25) (26)

04

27 이하인 수

(24) (25) (26) (27) 28

05

16 초과인 수

14 15 16 (17) (18)

06

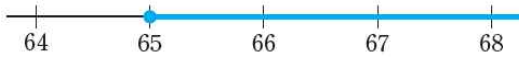
19 미만인 수

(17) (18) 19 20 21

[07 ~ 10] 수직선에 나타내어 보세요.

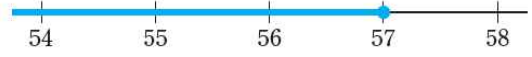
07

65 이상인 수



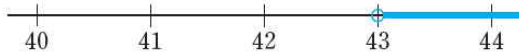
08

57 이하인 수



09

43 초과인 수



10

78 미만인 수



[11 ~ 13] 알맞은 수에 표하세요.

11

43 초과 49 이하인 수

43 46 38 41 47 49 52

12

28 이상 37 미만인 수

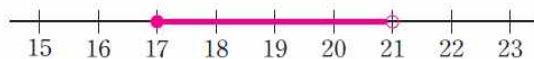
30 35 28 38 33 37 40

13

52 이상 62 이하인 수

50 52 54 64 48 62 60

14 수직선에 나타낸 수의 범위를 써 보세요.



(17 이상 21 미만인 수)